

السؤال الأول: (١) أمامك خريطة صماء لمصر، اكتب مذكول الأرقام الموقعة عليها:

- ١- ترعة ..... بحر يوسف
- ٢- منطقة زراعية فيضية ..... الدلتا
- ٣- قناطر ..... أسينا
- ٤- بحيرة ..... ناصر

(ب) بهم تفسر...؟

١- ندرة النبات الطبيعي في البيئة الزراعية.

السؤال الثاني: (١) اكتب المصطلح المناسب لكل من:

١- زراعة الأرض وإنتاج المحاصيل وتربية الحيوان. النشاط الزراعي

٢- يقصد بها الأفراد الذين في سن العمل ولا يعملون. البطالة

٣- قناة يتم حفرها عند منسوب أقل من منسوب الترع والأراضي لصرف المياه الزائدة عن حاجة التربة. المصرف

(ب) أكمل العبارات الآتية بكلمات مناسبة:

١- تعتمد الزراعة في ..... الواحات على المياه الجوفية.

٢- توفر لنا البيئة الساحلية الثروات المائية

٣- انتشار المناطق العشوائية يسهم في ارتفاع الكثافة السكانية وازدحام المدن

(ج) أذكر المشكلات التي تواجه الصناعة في مصر.

التهرب الجمركي - ارتفاع أسعار المواد الخام ومصادر الطاقة - نقص الكوادر الفنية

ثانياً التاريخ

السؤال الثالث: (١) أكمل العبارات الآتية بكلمات مناسبة:

١- تنسب الدولة العثمانية إلى مؤسسها عثمان بن أرطغرل

٢- انطلقت ثورة القاهرة الثانية من حي بولاق

٣- من مهام الوالى إرسال الخراج المفروضة على البلاد.

٤- تدهورت الحالة الاقتصادية لدولة المماليك بعد اكتشاف طريق رأس الرجاء الصالح

(ب) رتب الأحداث التاريخية الآتية من القديم إلى الحديث:

(نهاية حكم محمد على - اتفاقية العريش - موقعة أبي قير البحرية - الحملة الفرنسية على مصر)

السؤال الرابع: (١) اختر الإجابة الصحيحة من بين الأقواس:

١- تولى القيادة العامة لحملة الحجاز عام ١٨١١م .....

(محمد على - إبراهيم باشا - طوسون باشا - خورشيد باشا)

٢- أصبحت مصر ولاية عثمانية بعد معركة .....

(إمبابة - الريدانية - شبراخيت - مرج دابق)

٣- فشل الفرنسيون في أثناء حملتهم على الشام في فتح .....

(دمشق - عكا - بيروت - حمص)

(ب) ما النتائج المترتبة على...؟

١- ثورة القاهرة الأولى. وشرع الفرنسيين في تحصين القاهرة

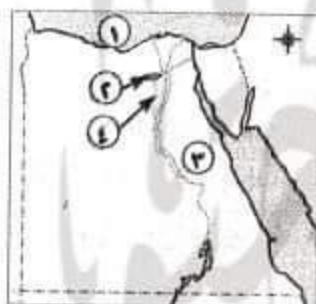
قام بالتخلص من الزعامة الشعبية بنفهم وعزلهم وتخلص من المماليك في مذبحة القلعة

٢- رغبة محمد على في الانفراد بحكم مصر.

٢- محافظة الجيزة - إدارة ٦ أكتوبر التعليمية

(مجاب عنه ص ٢٥٤)

أولاً الجغرافيا



السؤال الأول: (١) أمامك خريطة صماء لمصر اكتب مدلول الأرقام الموقعة عليها:



١- البحر المتوسط

٢- منخفض الفيوم

٣- الصحراء الشرقية

٤- ترعة بحر يوسف

(ب) اكتب ما تشير إليه العبارات الآتية:

١- المكان الذي نعيش فيه ويضم مظاهر طبيعية ومظاهر حضارية. البيئة

٢- حاجز مائي بغرض رفع منسوب المياه لتوزيعها في الترع المتفرعة أمامها. القناطر

٣- تحويل المادة الخام إلى سلع ومنتجات لسد احتياجات السكان. الصناعة

٤- يقصد بها طلب السكان المحليين المنتجات الصناعية. السوق المحلية

السؤال الثاني: (١) اكتب كلمة (صواب) أمام العبارة الصحيحة، وكلمة (خطأ) أمام العبارة غير الصحيحة:

(✓)

(✗)

(✓)

(✗)

١- تبدو الدلتا على شكل مثلث كبير.

٢- تقل نسبة الأمية في الريف مقارنة بالمدن.

٣- تصنف الصناعة على حسب تطورها لصناعة حرفية وبسيطة وحديثة.

٤- أهم المشكلات التي تواجه الصناعة هي التلوث البيئي.

(ب) بم تفسر...؟

١- تنوع البيئات المصرية. بسبب اتساع مساحة مصر - تنوع مظاهر السطح وتنوع الموارد الطبيعية

٢- محافظة الفيوم منطقة جذب سياحي. لوجود بحيرة قارون وعين السيلين والسواقي وغيرها

٣- إنشاء المناطق الصناعية بمصر.

لتشغيل الأيدي العاملة - زيادة الدخل القومي - وزيادة الصادرات المصرية

والحصول على العملات الأجنبية



السؤال الثالث: (١) اختر الإجابة الصحيحة من بين الأقواس:

- ١- الذى قام بفتح مدينة القسطنطينية ..... (سليم الأول - عثمان بن أرطغرل - محمد الثانى - محمد على)
- ٢- أهم الأسباب المعلنة للحملة الفرنسية على مصر .....  
(تأديب المماليك - تهديد مصالح إنجلترا - إقامة مستعمرة فرنسية فى الشرق - تأييد المماليك)
- ٣- القائد الذى قام بمفاوضة العثمانيين فى اتفاقية العريش ..... (كليب - نابليون - مينو - نلسون)
- ٤- تم إنشاء ترسانة لصناعة السفن فى ..... (القاهرة - الإسكندرية - دمياط - العريش)

(ب) لمن تلسب الأعمال الآتية...؟

- ١- نائب السلطان العثمانى ومقره القلعة. **الوالى**
- ٢- قبض على زعماء الثورة وأعدم ستة أبرياء باستثناء الشيخ السادات. **نابليون**
- ٣- أنشأ المطبعة الأميرية ببولاق. **محمد على**
- ٤- أقام أول وأقدم إمبراطورية امتدت لمديرية خط الاستواء. **الخدو إسماعيل**

السؤال الرابع: (١) أكمل العبارات الآتية بكلمات مناسبة:

- ١- أصبحت مصر ولاية عثمانية بعد معركة ..... **الريدانية**
- ٢- أبحرت الحملة الفرنسية من ميناء ..... **طولون**
- ٣- قسم محمد على البلاد إلى ..... **سبع مديريات**
- ٤- تم عزل الخديو إسماعيل وتولية ابنه ..... **توفيق** بدلاً منه.

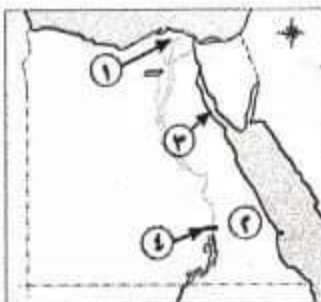
(ب) ما النتائج المترتبة على...؟

- ١- اكتشف البرتغاليين رأس الرجاء الصالح. **ضعف وانهار دولة المماليك**
- ٢- تخلص محمد على من المماليك فى مذبحه القلعة. **أدى إلى انفراد محمد على بحكم مصر**
- ٣- توسعات محمد على الداخلية والخارجية. **أدى الصدام مع الدول الإستعمارية وفرضوا عليه معاهدة لندن**

٢- محافظة الإسكندرية - إدارة شرق التعليمية

(مجاب عنه ص ٢٥٥)

السؤال الأول: (١) أمامك خريطة صماء لمصر اكتب مدلول الأرقام الموقعة عليها:



- ١- منطقة زراعية مروية ..... **الدلتا**
- ٢- الصحراء ..... **الشرقية**
- ٣- خليج ..... **السويس**
- ٤- السد ..... **العالى**

(ب) به تفسر...

- ١- حدوث التلوث البيئي في البيئة الزراعية. بسبب الإسراف في استخدام الاسمدة الزراعية والمبيدات الحشرية
- ٢- ازدحام المدن وانتشار المناطق العشوائية. بسبب الهجرة من الريف الى المدن

السؤال الثاني: (١) اكتب كلمة (صواب) أمام العبارة الصحيحة، وكلمة (خطأ) أمام العبارة غير الصحيحة:

- ١- تتميز الأراضي الزراعية بمنخفض الفيوم باستواء سطحها. (X)
- ٢- تقوم الترع بصرف المياه الزائدة عن التربة. (X)
- ٣- يراعى عند إقامة المصانع أن تكون قريبة من المناطق السكنية. (X)
- ٤- مشاركة المرأة في العمل من خصائص سكان البيئة الصناعية. (✓)
- ٥- يعد التهرب الجمركي من مشكلات الصناعة في مصر. (✓)

مستر / عطا زكى شحتو

(ب) ما المقصود بالمفهومين الآتيين...؟

- ١- البطالة: الأفراد في سن العمل ولا ٢- تجريف التربة. إزالة الطبقة السطحية من التربة مما يؤدي إلى تدهور إنتاجها

السؤال الثالث: (١) اختر الإجابة الصحيحة مما بين القوسين:

- ١- اكتشف ..... طريق رأس الرجاء الصالح عام ١٤٩٨م. (العثمانيون - الفرس - البرتغاليون - العرب)
- ٢- سيطرت الدولة العثمانية على بلاد الشام بعد معركة ..... (مرج دابق - الريدانية - إمبابة - شبراخيت)
- ٣- عقد كليبر مع العثمانيين اتفاقية ..... يناير ١٨٠٠م. (الجلاء - العريش - أوسلو - كامب ديفيد)
- ٤- أعطى ..... امتياز حفر قناة السويس للمهندس الفرنسي ديليسبس ١٨٥٤م. (إسماعيل باشا - سعيد باشا - عباس باشا - توفيق باشا)

(ب) ما النتائج المترتبة على...

- ١- هزيمة القوات الإنجليزية في رشيد والحمامة فشلت الحملة الإنجليزية في احتلال مصر ورحلت عن الاسكندرية
- ٢- سياسة محمد علي الخارجية التوسعية. أدى الصدام مع الدول الإستعمارية وفرضوا عليه معاهدة لندن

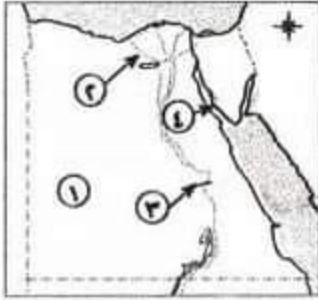
السؤال الرابع: (١) صوب ما تحته خط:

- ١- أبحرت الحملة الفرنسية من ميناء طولون واستولت على جزيرة سيشل ومنها إلى كريت. مألطة
- ٢- من مظاهر اهتمام محمد علي بالرى إنشاء مشروع قناطر إسناء. القناطر الخيرية
- ٣- أصدر محمد علي صحيفة المصري اليوم. الوقائع المصرية

(ب) «كانت مصر قبل مجيء العثمانيين تحت حكم المماليك». فى ضوء هذه العبارة أجب:

- ١- اذكر أسباب ازدهار دولة المماليك. بسبب موقعها الجغرافى المسيطر على طريق التجارة بين اوربا والشرق
- ٢- لماذا اعتمد العثمانيون فى حكم الأقاليم على المماليك؟ لخبرتهم الطويلة فى حكم البلاد





السؤال الأول: (١) أمامك خريطة صماء لمصر، اكتب مدلول الأرقام الموقعة عليها:

- ١- الصحراء ..... الغربية
- ٢- ترعة غرب الدلتا ..... النوبارية
- ٣- قناطر ..... إسنا
- ٤- خليج ..... السويس

(ب) صوب ما تحته خط:

- ١- توجد الزراعة المروية بمياه النيل في الوادى والدلتا ومنخفض القطارة. الفيوم
- ٢- لا توجد الزراعة في الأطراف الشمالية للدلتا بسبب ارتفاع الأمواج. نسبة الملوحة
- ٣- من مناطق النشاط السياحي في البيئة الزراعية الفيوم وبها بحيرة ناصربحيرة قارون
- ٤- من العوامل الطبيعية لقيام الصناعة رأس المال المواد الخام

(ج) بهم تفسر...؟ بسبب اتساع مساحة مصر - تنوع مظاهر السطح وتنوع الموارد الطبيعية

- ١- تنوع البيئات المصرية.
  - ٢- إنشاء الدولة للمناطق الصناعية.
- السؤال الثاني: (١) اكتب المصطلح العلمى لكل مما يأتى:

- ١- قناة مائية تم حفرها لتوصيل المياه من النيل لرى الأراضى الزراعية. الترعة
- ٢- الأفراد الذين فى سن العمل ولا يعملون. البطالة
- ٣- استخدام الإنسان للموارد المتاحة لسد احتياجاته. النشاط الإقتصادى
- ٤- صناعة تعتمد على العمل اليدوى وتحتاج لرأس مال قليل. الصناعات الحرفية
- ٥- الإفراط وسوء استخدام الموارد الطبيعية بشكل يؤدى إلى نفادها. الاستنزاف

(ب) «تعانى البيئة الصناعية فى مصر من العديد من المشكلات» فى ضوء هذه العبارة أجب:

- ١- ما أهم المشكلات فى البيئة الصناعية فى مصر؟ التهرب الجمركى - ارتفاع أسعار المواد الخام ومصادر الطاقة - نقص الكوادر الفنية
- ٢- ما جهود الدولة لحل مشكلات البيئة الصناعية؟

تركيب مرشحات على مداخن المصانع - إنشاء وزارة البيئة  
نقل المصانع خارج المدن

السؤال الثالث: (١) اكتب كلمة (صواب) أمام العبارة الصحيحة، وكلمة (خطأ) أمام العبارة غير الصحيحة:

- ١- تم فتح القسطنطينية على يد محمد الثانى (الفاتح). (✓)
- ٢- أصبحت مصر ولاية عثمانية بعد معركة مرج دابق. (✗)
- ٣- يشرف الوالى على تنفيذ القرارات الصادرة من السلطان العثمانى. (✓)
- ٤- ازدهرت أحوال مصر الاقتصادية والعلمية فى ظل الحكم العثمانى. (✗)
- ٥- تحطم الأسطول الفرنسى فى موقعة أبى قير البحرية. (✓)

## كتاب مستر / عطا زكى شحتو

(ب) ما النتائج المترتبة على...؟ أدى الى تدهور الحياة الفنية والصناعة في مصر اثناء الحكم العثماني

١- ترحيل السلطان سليم الأول الصناع المهرة إلى الأستانة .

٢- الحملة الفرنسية على مصر (العلمية والثقافية فقط). اكتشاف حجر رشيد - تأليف كتاب وصف مصر

انشاء المجمع العلمي - دراسة مشروع توصيل البحر الاحمر بالمتوسط  
السؤال الرابع: (١) تخير الإجابة الصحيحة مما بين القوسين:

١- أقام الخديو ..... إمبراطورية مصرية امتدت لمديرية خط الاستواء .

(توفيق - إسماعيل - سعيد - إبراهيم)

٢- طمع الإنجليز في بسط نفوذهم على مصر لتأمين مستعمراتهم في .....

(سوريا - لبنان - الهند - مصر)

٣- أبحرت الحملة الفرنسية من ميناء .....

(السويس - العقبة - طولون - الإسكندرية)

٤- اجتمع زعماء الشعب والعلماء في دار المحكمة وقرروا عزل .....

(محمد علي - خورشيد باشا - طوسون - توفيق)

(ب) برهن على صحة العبارتين الآتيتين: ادخل انواع جديدة من القطن- غرس اشجار التوت

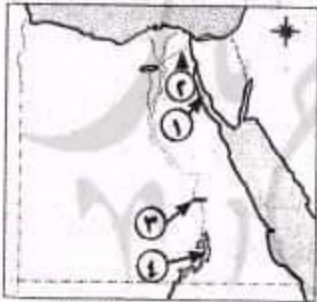
١- اهتمام محمد علي بمشروعات الري. اهتم بالري بفشق ترعة المحمودية وانشأ القناطر الخيرية

٢- فشل الحملة الفرنسية في فتح عكا. بسبب قوة اسوارها وبساله اهلها

٥- محافظة الغربية - إدارة كضر الزيات التعليمية

### اولا - الجغرافيا

السؤال الأول: (١) أمامك خريطة لمصر، اكتب مدلول الأرقام الموقعة عليها:



مستر / عطا زكى شحتو

السويس

١- خليج

الإسماعيلية

٢- ترعة

إسنا

٣- قناطر

ناصر

٤- بحيرة

(ب) ما النتائج المترتبة على...؟

١- كثافة النشاط الزراعي في البيئة الزراعية. أدى الى ندرة النباتات الطبيعية في البيئة الزراعية

٢- انفتاح الدولة على العالم الخارجى. يشجع العرب والأجانب على الاستثمار في مجال الصناعة

(ج) ما العلاقة بين...؟

- الهجرة والبطالة. العلاقة بينهم علاقة طردية فكلما ذات نسبة البطالة ذات نسبة الهجرة الداخلية والخارجية

السؤال الثاني: (١) اكتب كلمة (صواب) أمام العبارة الصحيحة، وكلمة (خطأ) أمام العبارة غير الصحيحة:

١- تعتمد الصناعة في مناطق الزراعة الفيضية على مياه الأمطار.

٢- من المشكلات التي يعاني منها سكان البيئة الصناعية نقص الكوادر الفنية.







# الأضواء كتاب مسر / عطا زكى شحتو



٣- تتنوع الصناعات الحرفية فى البيئة الزراعية بسبب تنوع الموارد الطبيعية.

٤- صناعة حلج الأقطان من الصناعات الحرفية.

(ب) اكتب ما تشير إليه العبارتان الآتيتان:

١- صناعات تعتمد على الآلات الحديثة ويقل الاعتماد فيها على الأيدى العاملة. **الصناعات الحديثة**

٢- حاجز مائى أنشئ بغرض رفع منسوب المياه لتوزيعها فى الترع المتفرعة أمامها **القناطر**

(ج) ماذا يحدث إذا...؟

- لم تتنوع البيئات المصرية. **عدم تنوع الثروات الطبيعية والإنتاج الأقتصادى**

## لنينا التاريخ

السؤال الثالث: (١) اختر الإجابة الصحيحة مما بين الأقواس:

١- فتحت القسطنطينية فى عهد السلطان .....

(سليمان القانونى - محمد الثانى - طومان باى - بايزيد الثانى)

٢- فشلت الحملة الفرنسية على الشام فى فتح مدينة .....

٣- تخلص محمد على من الزعامة الشعبية بنفى عمر مكرم إلى .....

(دمياط - الصعيد - القاهرة - الإسكندرية)

٤- نجح فى إقامة إمبراطورية مصرية امتدت إلى مديرية خط الاستواء .....

(سعيد - عباس - إبراهيم - إسماعيل)

(ب) بم تفسر...؟

١- الصدام بين محمد على والدول الأوربية. **بسبب السياسة التوسعية لمحمد على**

٢- اختيار المماليك لحكم الأقاليم أثناء الحكم العثمانى لمصر. **بسبب خبرتهم الطويلة فى حكم البلاد**

(ج) ما رأيك فى...؟ **تعتبر فترة من الفترات الجيدة فى تاريخ مصر لأنها البداية الحقيقية لبناء مصر الحديثة**

- أحوال مصر الداخلية أثناء حكم محمد على.

السؤال الرابع: (١) صوب ما تحته خط فى العبارات الآتية:

١- أبحرت الحملة الفرنسية من ميناء طولون بشمال فرنسا. **جنوب**

٢- اندلعت ثورة القاهرة الثانية بسبب الإجراءات التى اتخذها مينو. **كليب**

٣- سيطر العثمانيون على بلاد الشام بعد هزيمة المماليك عند الريديانية. **مرج دابق**

٤- الحامية العثمانية فرق عسكرية من مهامها الدفاع عن الحاكم. **البلاد**

(ب) برهن على صحة العبارتين الآتيتين:

**حيث اجتمع زعماء الشعب بقيادة عمر مكرم وعبدالله الشرقاوى فى بدار المحكمة**

١- انتصرت الإرادة الشعبية المصرية انتصاراً رائعاً عام ١٨٠٥م. **وقرروا عزل خوشيد باشا وتولية محمد على**

٢- تسبب السلطان سليم الأول فى تدهور الحياة الفنية فى مصر.

**حيث قام بترحيل أمهر الصناع والحرفين إلى الاسكانة**

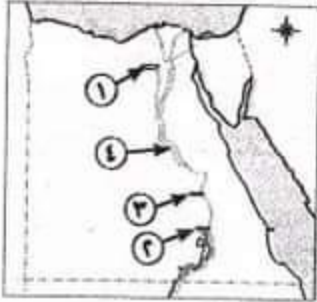
**واستولى على التحف والمخطوطات النادرة**

كتاب مستر/ عطا زكى شحتو

٦- محافظة الدقهلية - إدارة طلخا التعليمية

أولاً الجغرافيا

السؤال الأول: (١) أمامك خريطة لمصر، اكتب ما تشير إليه الأرقام الموضحة عليها:



مستر / عطا زكى شحتو

- ١- منخفض ..... الفيوم
- ٢- السد ..... العالي
- ٣- قناطر ..... إسنا
- ٤- منطقة زراعة مروية ..... وادى النيل

(ب) أكمل ما يأتى:

- ١- تهدف الدولة من إنشاء المناطق الصناعية إلى ..... تشغيل الأيدي العاملة وزيادة الدخل القومى
- ٢- من المشكلات المرتبطة باستخدام موارد البيئة الزراعية ..... تنقص الأراضي الزراعية والتلوث البيئى للتربة الزراعية

(ج) ما المقصود بالمفاهيم الآتية...؟  
 أرض مستوية تتكون على جنبى النهر نتيجة الرواسب الطينية التى نقلها .....  
 ١- السهل الفيضى ..... نهر النيل من منبعه  
 ٢- الاستنزاف ..... هو الإفراط وسوء استخدام الموارد الطبيعية بشكل يودى إلى نفاذها

السؤال الثانى: (١) ضع علامة (صواب) أمام العبارة الصحيحة، وعلامة (خطأ) أمام العبارة غير الصحيحة مع التصويب:

- ١- الدلتا تبدو فى شكل مثلث رأسه شمال مدينة الإسكندرية. (X)
- ٢- رأس المال من العوامل الطبيعية لقيام الصناعة. (X)
- ٣- محافظة بورسعيد من محافظات دلتا نهر النيل. (✓)
- ٤- الانفتاح على العالم الخارجى يشجع على الاستثمار فى المجال الصناعى. (✓)
- ٥- تنوع الثروات الطبيعية والإنتاج الاقتصادى نتيجة لتنوع البيئات المصرية. (✓)

(ب) يرم تفسر...؟

- ١- لرى الاراضى المرتفعة لان منخفض الفيوم على شكل مدرجات واسعة تستخدم السواقي لرى أراضى منخفض الفيوم.
- ٢- أهمية البيئة الصناعية للبيئة الزراعية. المنتجات الصناعية مثل الأسمدة والآلات الزراعية والاجهزة الكهربائية والأدوية

ثانياً التاريخ

السؤال الثالث: (١) اختر الإجابة الصحيحة مما بين القوسين:

- ١- عقدت اتفاقية العريش بين كل من كليبر و..... (العثمانيين - الإنجليز - المماليك - الفرنسيين)
- ٢- خرجت الحملة الفرنسية من مصر عام ١٨٠١م بقيادة ..... (كليبر - مينو - نلسون - نابليون)
- ٣- أصدر السلطان العثمانى فرماناً بضم حكم ..... لمحمد على عام ١٨٤١م. (السودان - الحجاز - اليونان - الشام)
- ٤- أعطى ..... باشا امتياز حفر قناة السويس للمهندس ديليسبس. (عباس - سعيد - إسماعيل - إبراهيم)



### ١- الحملة الفرنسية من الناحية السياسية.

٢- تشجيع عمر مكرم المصريين على مواجهة حملة فريزر ١٨٠٧م.

(ج) رتب الأحداث الآتية من القديم إلى الحديث؛

حملة نابليون على الشام - مقتل كليبر - دخول العثمانيين القاهرة - فرار المماليك إلى السودان.

السؤال الرابع: (١) إلى من تنسب الأعمال الآتية...؟

١- قيادة مقاومة الحملة الفرنسية بالإسكندرية ١٧٩٨م. السيد محمد كريم

٢- نولى قيادة الحملة التي أرسلها محمد على إلى بلاد الحجاز. **طوسون**

٣- الإشراف على تنفيذ القرارات الصادرة من السلطان العثماني. **الوالي**

(ب) صوب ما تحتہ خط:

١- أنشأ محمد علي ترسانة لصناعة السفن بالقاهرة.

٢- اندلعت ثورة القاهرة الثانية من الأزهر الشريف.

(ج) قارن بین گل من:

- موقعة أبي قير البحرية وأبي قير البرية من حيث نتائج كل منهما.

٧- محافظة كفر الشيخ - إدارة الرياض التعليمية

اولا الحفراميا

السؤال الأول: ( ١ ) أكمل نقاط الخريطة التالية:

الأحمر

## النوارية

## العالم

النَّشْرُ

(ب) ہم تفسیر...؟

١- تناقص مساحة الأراضي الزراعية. **يسبب الزحف العمراني عليها**

٢- إنشاء الدولة المناطق الصناعية. لتشغيل الأيدي العاملة - زيادة الدخل القومي - وزيادة الصادرات المصرية

السؤال الثاني: (١) اكتب كلمة (صواب) أمام العبارة الصحيحة، وكلمة (خطأ) أمام العبارة غير الصحيحة فيما يلي:

١- تعتمد الزراعة في الساحل الشمالي على مياه نهر النيل.

٢- تظهر الأراضي الزراعية في منخفض الفيوم على شكل مدرجات.

٣- الانفتاح على العالم الخارجي يشجع على الاستثمار في المجال الصناعي. (✓)

٤- ترتفع نسبة الأمية بين سكان البيئة الصناعية.

(ب) ما المقصود بكل من...؟

## ٢- العشوائيات.

## ٢- القناطر.

المناطق التي بنيت بدون تخطيط وعادة ما تظهر على أطراف المدن

حاجز مائی آنشی بغرض رفع

منسوب المياه لتوزيعها في

القرع



## كتاب مستر / عطا زكى شحتو

تانيا التاريخ

السؤال الثالث: (١) أكمل العبارات الآتية بكلمات مناسبة:

- ١- أصبحت القسطنطينية عاصمة الدولة العثمانية فى عهد السلطان **محمد الثاني**
- ٢- أصبحت مصر ولاية عثمانية بعد معركة **الريانية**
- ٣- فشلت الحملة الفرنسية على الشام بسبب فشلها فى دخول مدينة **عكا**
- ٤- تخلص محمد على من السيد عمر مكرم بنفيه إلى مدينة **دمياط**

(ب) ما النتائج المترتبة على...

- ١- معركة مرج دابق عام ١٥١٦م. انتصار العثمانيين وهزيمة المماليك واصبحت بلاد الشام ولاية عثمانية
- ٢- سياسة محمد على التوسعية أدت إلى الصدام مع الدول الإستعمارية وفرضوا عليه معاهدة لندن

السؤال الرابع: (١) إلى من تنسب الأعمال التالية...

- ١- تزعم مقاومة أهل الإسكندرية ضد الحملة الفرنسية. **السيد عمر مكرم**
- ٢- دمر حي بولاق بالمدافع وفرض الضرائب والإتاوات. **كليبر**
- ٣- تولى حكم مصر عام ١٨٠٥م. **محمد على**
- ٤- أقام إمبراطورية مصرية امتدت إلى مديرية خط الاستواء. **الخدوي اسماعيل**

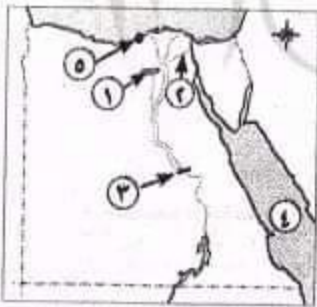
(ب) ماذا كان يحدث إذا...

- ١- لم يكتشف البرتغاليون طريق رأس الرجاء الصالح. **خرجت الحملة ولم تحدث ثورة القاهرة**
- ٢- وافقت إنجلترا على اتفاقية العريش يناير ١٨٠٠م. **الثانية ولم يتولى مينو قيادة الحملة**

٨- محافظة البحيرة - إدارة أبو حمص التعليمية

اولا الجغرافيا

السؤال الأول: (١) أمامك خريطة لمصر، اكتب ما تشير إليه الأرقام الموضحة عليها:



مستر / عطا زكى شحتو

- ١- منخفض **الفيوم**
- ٢- ترعة **الإسماعيلية**
- ٣- قناطر **نجع حمادى**
- ٤- البحر **الأحمر**
- ٥- مدينة **الإسكندرية**

(ب) بهم تفسر...

- ١- أهمية البيئة الصناعية فى مصر. **لتشغيل الأيدي العاملة - زيادة الدخل القومى - وزيادة الصادرات المصرية وحل مشكلة البطالة**
- ٢- تلوث الهواء بالبيئة الصناعية. **بسبب أدخنة المصانع**
- ٣- تهجير سكان النوبة بعد بناء السد العالى. **لان المياه غمرت اراضيهم ومنازلهم**





# الأضواء كتاب مستر / عطا زكي شحتو

السؤال الثاني: (١) اكتب ما تشير إليه كل عبارة من العبارات الآتية:

- ١- الإفراط وسوء استخدام الموارد الطبيعية بشكل يؤدي إلى نفادها. **الاستنزاف**
- ٢- إزالة الطبقة السطحية من التربة مما يؤدي إلى تدهورها. **تجريف التربة**
- ٣- صناعات يتم فيها تحويل المواد الخام إلى صورة أخرى لتقليل حجمها ووزنها. **الصناعات البسيطة**
- ٤- الأفراد الذين في سن العمل ولا يعملون. **البطالة**

(ب) ما النتائج المترتبة على...؟

- ١- تنوع البيئات المصرية. أدى إلى تنوع الثروات الطبيعية والانتاج الاقتصادي
- ٢- استخدام مصادر الطاقة النظيفة في الصناعة. يؤدي إلى انخفاض نسبة التلوث في البيئة الصناعية
- ٣- وفرة وسائل النقل والمواصلات للصناعة. أدى إلى سهول نقل العمال والمواد الخام والمنتجات بأسعار رخيصة

## ثانياً التاريخ

السؤال الثالث: (١) اكتب كلمة (صواب) أمام العبارة الصحيحة، وكلمة (خطأ) أمام العبارة غير الصحيحة:

- ١- كان من مهام الوالي الإشراف على تنفيذ القرارات الصادرة من السلطان العثماني. (✓)
- ٢- احترام نابليون حرمة ومكانة الجامع الأزهر أثناء الحملة الفرنسية على مصر. (✗)
- ٣- تخلص محمد علي من الزعامة الشعبية في مذبحة القلعة في مارس ١٨١١م. (✗)
- ٤- اهتم محمد علي بمشروعات الري فشق الترع والقنوات كترعة المحمودية. (✓)
- ٥- نجح إبراهيم باشا في إقامة إمبراطورية مصرية امتدت إلى مديرية خط الاستواء. (✗)

(ب) إلى من تنسب الأعمال الآتية...؟

- ١- قائد القوات المملوكة في معركة الريدانية ضد العثمانيين. **طومان باي**
- ٢- حاكم الإسكندرية الذي قاوم الحملة الفرنسية عام ١٧٩٨م. **السيد محمد كريم**
- ٣- شاب سوري تمكن من قتل كليبر قائد الحملة الفرنسية في يونيو ١٨٠٠م. **سليمان الحلبي**

السؤال الرابع: (١) اختر الإجابة الصحيحة مما بين القوسين:

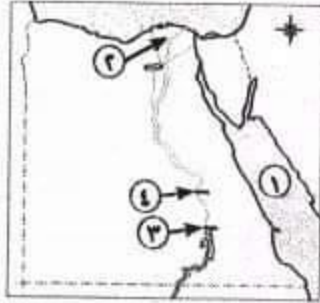
- ١- اتخذ ..... مدينة القسطنطينية عاصمة لدولتهم عام ١٤٥٣م. (الأيوبيون - المماليك - **العثمانيون** - الفرنسيون)
- ٢- فشلت الحملة الفرنسية على الشام بسبب عدم قدرتها على فتح ..... (عكا - يافا - سوريا - العريش)
- ٣- تولى محمد علي حكم مصر عام ١٨٠٥م بعد عزل الوالي ..... (عباس - إسماعيل - **خورشيد** - توفيق)
- ٤- أرسل محمد علي البعثات التعليمية إلى دولة ..... (إنجلترا - فرنسا - تركيا - الحجاز)

(ب) ماذا يحدث إذا لم...؟

- ١- يكتشف البرتغاليون طريق رأس الرجاء الصالح عام ١٤٩٨م. **عدم تدهور وانهيار دولة المماليك**
- ٢- يهمل العثمانيون العلوم العقلية مثل الرياضيات والطبيعة. **ازدهار الحياة العلمية والثقافية في مصر أثناء الحكم العثماني**
- ٣- يتحطم الأسطول الفرنسي في موقعة أبي قير البحرية عام ١٧٩٨م.

**نجحت فرنسا في إقامة مستعمرة فرنسية في الشرق يكون مركزها مصر**

السؤال الأول: (١) أمامك خريطة لمصر، اكتب ما تدل عليه الأرقام:



مستر / عطا زكى شحتو

- ١- البحر ..... الأحمر
- ٢- من مناطق الزراعة المروية ..... الدلتا
- ٣- السد ..... العالى
- ٤- قناطر ..... اسنا

(ب) اكتب سببا واحدا لكل مما يأتى:

- ١- تنوع البيئات المصرية. بسبب اتساع مساحة مصر
- ٢- يقل عدد سكان الوجه القبلى عن الدلتا. بسبب ضيق مساحة الاراضى الزراعية
- ٣- ازدحام المدن وانتشار المناطق العشوائية فى البيئة الصناعية. بسبب الهجرة من الريف الى المدن
- ٤- الإكثار من المساحات الخضراء فى البيئة الصناعية. لامتصاص الغازات الضارة وتقليل التلوث

السؤال الثانى: (١) اكتب كلمة (صواب) أمام العبارة الصحيحة، وكلمة (خطأ) أمام العبارة غير الصحيحة مما يأتى:

- ١- استقر المصريون القدماء على ضفتى النيل وعلى أراضى الدلتا. (✓)
- ٢- تقوم الزراعة فى الساحل الشمالى على مياه نهر النيل. (✗)
- ٣- من خصائص سكان البيئة الصناعية ارتفاع نسبة الأمية. (✗)
- ٤- تهدف الدولة من إنشاء المناطق الصناعية زيادة الدخل القومى. (✓)

(ب) اكتب المفهوم العلمى أو المصطلح الجغرافى الدال على كل عبارة من العبارات التالية:

- ١- حاجز مائى بغرض رفع منسوب المياه لتوزيعها فى الترع المتفرعة أمامها. القناطر
- ٢- يقصد بها الأفراد الذين فى سن العمل ولا يعملون. البطالة
- ٣- إزالة الطبقة السطحية من التربة مما يؤدى إلى تدهور إنتاجها. تجريف التربة
- ٤- الإفراط وسوء استخدام الموارد الطبيعية بشكل يؤدى إلى نفادها. الاستنزاف

السؤال الثالث: (١) صوب الكلمات التى فوق الخط مما يأتى:

- ١- كانت مصر قبل مجىء العثمانيين تحت حكم البرتغاليين. المماليك
- ٢- الوالى أو الباشا هو نائب السلطان ومقره القاهرة. القلعة
- ٣- أبحرت الحملة الفرنسية من ميناء طولون بجنوب إنجلترا. فرنسا
- ٤- تولى طوسون باشا القيادة العامة لحملة الشام. الحجاز

مستر / عطا زكى شحتو



مسئز | عطازى شحز

(ب) انسب كل عمل من الأعمال التالية إلى صاحبه:

- ١- قام بترحيل امهر الصناع المصريين إلى الآستانة. سليم الأول
- ٢- عاد سرًا إلى فرنسا بعد أن عين قائدًا للحملة في مصر. نابليون بونابرت
- ٣- أنشأ قصر الجوهرة. محمد على

السؤال الرابع: (١) اختر الإجابات الصحيحة مما بين القوسين:

- ١- لفتت الحملة الفرنسية أنظار العالم الغربى لمصر وموقعها الجغرافى من النتائج .....  
(الحربية - السياسية - العلمية - الثقافية)
- ٢- أرسلت إنجلترا حملة إلى مصر فى مارس ١٨٠٧م بقيادة .....  
(فريزر - نلسون - كليبر - مينو)
- ٣- اهتم (محمد على) بتنظيم الإدارة فقسم البلاد إلى .....  
(٥ مديريات - ٦ مديريات - ٧ مديريات - ٨ مديريات)
- ٤- تولى حكم مصر بعد عزل إسماعيل باشا ابنه .....  
(عباس - سعيد - إبراهيم - توفيق)

(ب) «اتجه الزحف العثماني نحو مصر، وفى صحراء العباسية دارت معركة فاصلة بين العثمانيين والمماليك فى عام ١٥١٧م، وهزمت فيها القوات المملوكية». فى ضوء العبارة السابقة أجب عن الأسئلة التالية:

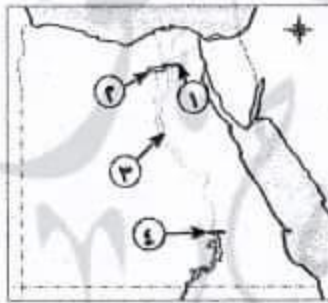
- ١- لماذا اتجه الزحف العثماني نحو مصر؟ لان مصر المقر الرئيسى للمماليك ومفتاح المشرق العربى
- ٢- ما اسم المعركة التى دارت بين العثمانيين والمماليك فى صحراء العباسية؟ الريدانية
- ٣- اكتب نتيجة واحدة ترتبت على هزيمة المماليك فى هذه المعركة. أصبحت مصر ولاية عثمانية

## ١٠ محافظة الشرقية - إدارة العاشر من رمضان التعليمية

(مجاب عنه ص ٢٥٥)

اولا الجغرافيا

السؤال الأول: (١) أمامك خريطة صماء لمصر، اكتب مدلول الأرقام عليها:



مسئز | عطازى شحز

- ١- القناطر ..... الخيرية
- ٢- منخفض ..... الفيوم
- ٣- ترعة ..... الإبراهيمية
- ٤- السد ..... العالي

(ب) بم تفسر...؟

- ١- ندرة النباتات الطبيعية فى البيئة الزراعية. بسبب كثافة النشاط الزراعى
- ٢- إنشاء الدولة وزارة البيئة. لإصدار القوانين والتشريعات لحماية البيئة من الاخطار

السؤال الثانى: (١) اختر الإجابة الصحيحة مما بين الأقواس:

- ١- من العوامل البشرية الهامة لقيام الصناعة .....  
(المواد الخام - الظروف المناخية - السوق - مصادر الطاقة)
- ٢- تقوم الزراعة فى الواحات اعتمادًا على مياه .....  
(النيل - الأمطار - الآبار والعيون - الرى)
- ٣- من العادات السلبية فى البيئة الزراعية .....  
(التعاون - احترام الكبير - التزاور فيما بينهم - زيادة الإنجاب)
- ٤- من الصناعات البسيطة صناعة .....  
(حفر الخشب - حلج القطن - الفخار - الآلات)

(ب) اكتب ما تشير إليه كل عبارة:

- ١- النبات الذي ينمو تلقائياً دون تدخل الإنسان. **النبات الطبيعي**
- ٢- تحويل المواد الخام إلى سلع ومنتجات لسد حاجات السكان. **الصناعة**
- ٣- انتقال الأفراد من مكان إلى مكان داخل حدود الدولة. **هجرة داخلية**

### ثانياً التاريخ

السؤال الثالث: (١) إلى من تنسب الأعمال الآتية...؟

- ١- تولى قيادة الحملة الفرنسية في مصر بعد مقتل كليبر. **ميناو**
- ٢- كان حاكماً للإسكندرية وقاد أهلها في مقاومة الحملة الفرنسية على مصر. **محمد كريم**
- ٣- دبر مذبحة القلعة للتخلص من المماليك. **محمد علي**
- ٤- فتح القسطنطينية عاصمة الدولة البيزنطية ١٤٥٣م. **محمد الثاني - الفاتح**

(ب) أكمل العبارات الآتية:

- ١- نفى (محمد علي) السيد عمر مكرم إلى **دمياط**.
- ٢- أصبحت مصر ولاية عثمانية بعد هزيمة المماليك في موقعة **الريمانية**.
- ٣- أعدم نابليون ستة من زعماء ثورة القاهرة الأولى باستثناء **الشيخ السادات**.
- ٤- قام بترحيل أمهر الصناع والحرفيين إلى الآستانة السلطان **سليم الأول**.

السؤال الرابع: (١) اكتب كلمة (صواب) أمام العبارة الصحيحة، وكلمة (خطأ) أمام العبارة غير الصحيحة:

- ١- قام السلطان سليم الأول بترحيل أمهر الصناع والحرفيين إلى الآستانة. (✓)
- ٢- كان نظام الحكم العثماني لمصر عادلاً. (✗)
- ٣- نجح الفرنسيون في احتلال مدينة الإسكندرية ١٧٩٨م بعد مقاومة حاكمها السيد عمر مكرم. (✗)
- ٤- تولى ميناو قيادة الحملة بعد مقتل كليبر. (✓)
- ٥- قام (محمد علي) بنفى (عمر مكرم) إلى خارج مصر. (✗)

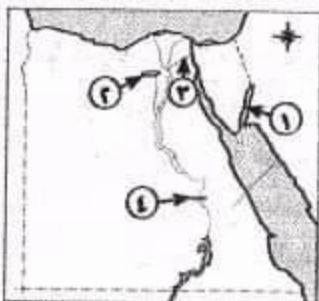
(ب) ما النتائج المترتبة على...؟  
**انقطاع الصلة بين الجيش الفرنسي وفرنسا**  
**اعتماد الفرنسيين على موارد مصر**  
**اضعاف الروح المعنوية للفرنسيين**  
**موقعة أبي قير البحرية أغسطس ١٧٩٨م.**

١١- محافظة الإسماعيلية - توجيه الدراسات الاجتماعية

### أولاً الجغرافيا

السؤال الأول: (١) أمامك خريطة صماء لمصر اكتب مدلول الأرقام عليها:

- ١- خليج **العقبة**
- ٢- منخفض **الفيوم**
- ٣- ترعة **الإسماعيلية**
- ٤- قناطر **اسنا**



مستر / عطازكي شحتو



(ب) اكتب ما تشير إليه العبارات التالية:

- ١- قناة يتم حفرها لتوصيل المياه من نهر النيل لرى الأراضى الزراعية. **الترعة**
- ٢- انتقال الأفراد من مكان لآخر داخل الدولة أو خارجها. **الهجرة**
- ٣- إزالة الطبقة السطحية من التربة مما يؤدي إلى تدهور إنتاجها. **تجريف التربة**

السؤال الثانى: (١) أكمل العبارات الآتية بكلمات مناسبة:

- ١- تعتمد الزراعة فى الساحل الشمالى على مياه **الأمطار الشتوية**
- ٢- تتميز البيئة الزراعية فى الوادى والدلتا باستواء **السطح** .....
- ٣- يتصل منخفض الفيوم بنهر النيل عن طريق **ترعة بحر يوسف**
- ٤- تزداد نسبة الأمية فى **الريف** ..... مقارنة بالمدن.

(ب) بهم تفسر...؟

بسبب اتساع مساحة مصر وتنوع مظاهر السطح وتنوع الموارد الطبيعية

- ١- تنوع البيئات المصرية.
  - ٢- أهمية النقل والمواصلات فى الصناعة.
- نقل العمال والمواد الخام والمنتجات بأسعار رخيصة**

## ثانياً التاريخ

السؤال الثالث: (١) اختر الإجابة الصحيحة مما بين الأقواس:

- ١- تم فتح القسطنطينية فى عهد السلطان .....

(سليم الأول - محمد الفاتح - يزيد الثانى - طومان باى)

- ٢- تولى المماليك حكم البلاد عقب انهيار الدولة .....

(الفاطمية - الأيوبية - العباسية - الأموية)

- ٣- وصلت الحملة الفرنسية يوليو ١٧٩٨م إلى ميناء .....

(دمياط - الإسكندرية - رشيد - بورسعيد)

- ٤- اجتمع زعماء الشعب والعلماء وقرروا عزل .....

(محمد على - خورشيد باشا - إبراهيم باشا - طوسون باشا)

(ب) ما النتائج المترتبة على...؟

- ١- اكتشاف طريق رأس الرجاء الصالح عام ١٤٩٨م.

٢- سياسة محمد على الخارجية التوسعية.

السؤال الرابع: (١) اكتب كلمة (صواب) أمام العبارات الصحيحة، وكلمة (خطأ) أمام غير الصحيحة:

- ١- قام السلطان العثمانى بترحيل أمهر الصناع والحرفيين إلى الآستانة. (✓)

- ٢- نجح الفرنسيون فى احتلال الإسكندرية بعد مقاومة حاكمها السيد عمر مكرم. (✗)

- ٣- تولى الجنرال مينو قيادة الحملة بعد مقتل كليبر. (✓)

- ٤- أصبحت مدينة الإسكندرية مقر الحكومة المركزية فى عصر (محمد على). (✗)

(ب) «وصلت رسالة من القائد كليبر بالإسكندرية إلى قائد الحملة الفرنسية بمصر نابليون بونابرت تفيد

بتحطيم الأسطول الفرنسى على يد الأسطول الإنجليزى بقيادة نلسون». فى ضوء هذه العبارة أجب:

- ١- اذكر اسم الموقعة. **ابى قير البحرية**

- ٢- النتائج التى ترتبت على الموقعة. **انقطاع الصلة بين الجيش الفرنسى وفرنسا**

**اعتماد الفرنسيين على موارد مصر****اضعاف الروح المعنوية للفرنسيين**

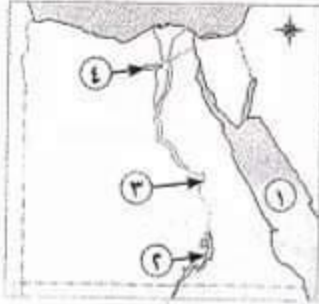
مستر / عطازكى شحتو

مستر / عطازكى شحتو ٢٢٥

## ١٢- محافظة السويس - إدارة جنوب السويس التعليمية

### اولاً < الجغرافيا

السؤال الأول: (١) أمامك خريطة صماء لمصر اكتب مدلول الأرقام عليها:



مسئراً / عطا زكى شحتو

- ١- البحر ..... الأحمر
- ٢- بحيرة ..... ناصر
- ٣- وادى ..... النيل
- ٤- منخفض ..... الفيوم

(ب) اكتب الإجابة الصحيحة من بين الأقواس:

- ١- قناة يتم حفرها عند منسوب أقل من منسوب الترع والأرض الزراعية .....  
(الترعة - المصرف - القناطر - السد)
- ٢- تعد صناعة العطور من الصناعات .....  
(الكيميائية - الكهربائية - المعدنية - الغذائية)

(ج) اكتب المصطلح الذى تشير إليه العبارات الآتية:

- ١- انتقال الأفراد من مكان إلى مكان داخل أو خارج حدود الدولة. الهجرة
- ٢- صناعة لتقليل حجم ووزن المواد الخام وتحتاج لعدد كبير من العمال. الصناعة البسيطة

السؤال الثانى: (١) اكتب كلمة (صواب) أمام العبارة الصحيحة، وكلمة (خطأ) أمام العبارة غير الصحيحة:

- ١- الزواج المبكر من العادات الإيجابية لسكان البيئة الزراعية. (X)
- ٢- يعتمد نشاط صيد الأسماك فى البيئة الزراعية على نهر النيل والترع. (✓)
- ٣- الانفتاح على العالم الخارجى يشجع على الاستثمار فى مجال الصناعة. (✓)
- ٤- السوق من العوامل الطبيعية لقيام الصناعة. (X)
- ٥- الاستنزاف يعنى تقليل الاستهلاك والاستخدام الأمثل للموارد. (X)

مسئراً / عطا زكى شحتو

(ب) بهم تفسر...؟

- ١- قلة عدد السكان فى وادى النيل عن الدلتا. بسبب ضيق مساحة الاراضى الزراعية
- ٢- الاهتمام بالتعليم الفنى والصناعى. لتخريج عمالة فنية مدربة

### ثانياً < التاريخ

السؤال الثالث: (١) أكمل العبارات التالية بكلمات مناسبة:

- ١- اقتصر التعليم فى مصر أثناء الحكم العثمانى على حفظ ..... القرآن الكريم ..... ودروس الفقه والتشريع.
- ٢- كان ..... الوالى ..... يدعو الديوان للانعقاد فى الولايات العثمانية.



٣- من الأسباب المعلنة للحملة الفرنسية تأديب **المماليك** .....

٤- قسم محمد على البلاد إلى **سبع** .....

(ب) صوب ما تحت خط من الكلمات:

١- تولى المماليك حكم مصر عقب انهيار الدولة **الفاطمية**. **الأيوبية**

٢- نفى محمد على عمر مكرم **خارج** البلاد. **داخل**

(ج) ما النتائج المترتبة على...؟

١- اكتشاف طريق رأس الرجاء الصالح. **تدهور** و**انهيار** دولة **المماليك** اقتصاديا

٢- سياسة محمد على الخارجية والتوسعية. أدى الى **الصدام** مع الدول الاستعمارية

السؤال الرابع: (١) اختر الإجابة الصحيحة مما بين القوسين: **وفرضوا عليه معاهدة لندن**

١- هزمت الجيوش المملوكية ١٥١٧م عند .....

٢- قاد الحملة الفرنسية على مصر .....

٣- اجتمع زعماء الشعب في دار المحكمة وقرروا عزل .....

(محمد على - **خورشيد باشا** - إبراهيم باشا - طوسون باشا)

٤- وصلت الحملة الفرنسية ميناء ..... في يوليو ١٧٨٩م. (دمياط - **الإسكندرية** - رشيد - بورسعيد)

(ب) لمن تنسب الأعمال الآتية...؟

١- قام بترحيل أمهر الصنائع والحرفيين من مصر الى الآستانة. **سليم الأول**

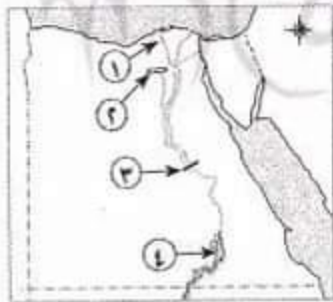
٢- تولى قيادة الحملة الفرنسية في مصر بعد مقتل كليبر. **مينو**

٣- تخلص من المماليك في مذبحة القلعة. **محمد علي**

## ١٢- محافظة الوادي الجديد - إدارة الدخلة التعليمية

### أولاً < الجغرافيا >

السؤال الأول: (١) أمامك خريطة صماء لمصر، اكتب مدلول الأرقام عليها:



مسئرا / عطازي شحتو

١- فرع ..... **رشيد**

٢- منطقة بيئة زراعية ..... **منخفض الفيوم**

٣- قناطر ..... **نجع حمادى**

٤- بحيرة ..... **ناصر**

(ب) بم تفسر...؟

١- تنوع البيئات المصرية. بسبب اتساع مساحة مصر وتنوع مظاهر السطح وتنوع الموارد الطبيعية

٢- اهتمام الدولة بإنشاء المناطق الصناعية.

لتنشغيل الأيدي العاملة - زيادة الدخل القومي - وزيادة الصادرات المصرية

والحصول على العملات الأجنبية

السؤال الثاني : ( ١ ) اكتب كلمة (صواب) أمام العبارة الصحيحة وكلمة (خطأ) أمام العبارة غير الصحيحة مع تصويب الخطأ:

- ١- من الخصائص الاقتصادية لسكان البيئة الزراعية ارتفاع مستوى دخل الفرد. (X)
- ٢- يمكن أن نجد البيئة الزراعية داخل البيئة الصحراوية. (✓)
- ٣- تم تهجير سكان النوبة بعد بناء السد العالي. (✓)
- ٤- تتنوع الصناعات بتنوع المواد الخام. (✓)
- ٥- الاستنزاف يعنى تقليل الاستهلاك والاستخدام الأمثل للموارد. (X)

مستر / عطازى شحتو

(ب) ما النتائج المترتبة على...؟

- ١- الهجرة من الريف إلى المدن. **زيادة السكان في المدن - ظهور العشوائيات**
- ٢- الإكثار من المساحات الخضراء في البيئة الصناعية. **زيادة الذكور في المدن - تناقص العاملين بالزراعة**
- امتصاص الغازات الضارة وتقليل التلوث**

بالتاريخ

السؤال الثالث: ( ١ ) اختر الإجابة الصحيحة مما بين الأقواس:

- ١- هزمت الجيوش المملوكية بقيادة السلطان ..... عند الريدانية. (طومان باي - قنصوه الغورى - سليم الأول - محمد الفاتح)
- ٢- تولى المماليك حكم البلاد بعد انهيار الدولة ..... (العباسية - الأموية - الفاطمية - الأيوبية)
- ٣- وصلت الحملة الفرنسية ميناء ..... فى يوليو عام ١٧٩٨ م. (دمياط - الإسكندرية - رشيد - بورسعيد)
- ٤- تحطم الأسطول الفرنسى فى موقعة ..... (ديو البحرية - أبى قير البحرية - طولون باي - عكا)
- ٥- اجتمع زعماء الشعب والعلماء فى دار المحكمة وقرروا عزل ..... (محمد على - خورشيد باشا - إبراهيم باشا - طوسون باشا)

(ب) ماذا كان يحدث إذا...؟

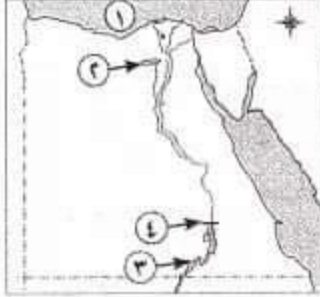
- ١- اهتمت الدولة العثمانية بالعلوم العقلية والطبيعية. **ازدهار الحياة العلمية والثقافية فى مصر أثناء الحكم العثمانى**
  - ٢- تخاذلت الزعامة الشعبية عن تأييدها لمحمد على. **لم يتم عزل خورشيد باشا من الحكم**
- السؤال الرابع: ( ١ ) اكمل العبارات الآتية بكلمات مناسبة: **ولم يكن لمحمد على دور فى التاريخ المصرى**
- ١- اتجه السلطان العثمانى ..... **سليم الأول** فى غزواته نحو المشرق العربى.
  - ٢- من الأسباب المعلنة للحملة الفرنسية **تأديب المماليك**
  - ٣- اتخذ المصريون من ..... **الأزهر الشريف** مركزاً للمقاومة أثناء ثورة القاهرة الأولى.
  - ٤- تخلص محمد على من المماليك فى **مذبحة القلعة** عام ١٨١١ م.

(ب) اذكر سبباً واحداً لكل من:

- ١- قيام ثورة القاهرة الثانية. **بسبب الإجراءات التى اتخذها كليبر ضد أهالى القاهرة**
- ٢- تدهور الحياة الفنية أثناء الحكم العثمانى لمصر. **بسبب قيام سليم الأول بترحيل أمهر الصناعات الى الاسكندرية**
- ٣- نفى محمد على للسيد عمر مكرم. **للتخلص من الزعامة الشعبية والانفراد بحكم مصر**



السؤال الأول: (١) أمامك خريطة صماء لمصر اكتب مدلول الأرقام عليها:



مستر / عطا زكي شحتو

المتوسط

الفيوم

ناصر

العالي

- ١ - البحر .....  
 ٢ - منخفض .....  
 ٣ - بحيرة .....  
 ٤ - السد .....

(ب) بهم تفسر...؟

١- تندر النباتات الطبيعية في البيئة الزراعية. بسبب كثافة النشاط الزراعي

٢- تعد وسائل النقل والمواصلات من العوامل المهمة في الصناعة.

السؤال الثاني: (١) اكتب كلمة (صواب) أمام العبارة الصحيحة، وكلمة (خطأ) أمام العبارة غير الصحيحة:

- ١- تم شق ترعة الإسماعيلية لخدمة الأراضي الزراعية في غرب الدلتا. (X)  
 ٢- تعد صناعة الفخار والأثاث من الصناعات الحرفية في البيئة الزراعية. (✓)  
 ٣- من جهود الدولة لحل مشكلات البيئة الزراعية استخدام الأسمدة العضوية. (✓)  
 ٤- احترام مواعيد العمل من العادات السلبية للعاملين بالبيئة الصناعية. (X)  
 ٥- تعتمد صناعة الكمبيوتر والسيارات على الآلات الحديثة. (✓)

(ب) ما المقصود بالمفاهيم الآتية...؟

١- العشوائيات. المناطق التي بنيت بدون تخطيط وعادة ما تظهر على أطراف المدن

٢- الصناعة. تحويل المادة الخام إلى سلع ومنتجات لسد احتياجات السكان

السؤال الثالث: (١) اختر الإجابة الصحيحة مما بين الأقواس:

- ١- تم فتح القسطنطينية عاصمة الدولة البيزنطية في عهد السلطان .....  
 (سليم الأول - محمد الفاتح - طومان باي - بايزيد الثاني)  
 ٢- هُزمت الجيوش المملوكية في عام ١٥١٧م عند .....  
 (مرج دابق - شبراخيت - الريدانية - ديوان البحرية)  
 ٣- نجح الفرنسيون في احتلال الإسكندرية بعد مقاومة حاكمها .....  
 (عمر مكرم - محمد كريم - الشيخ السادات - الشيخ الشرقاوى)  
 ٤- كان مقر الحكومة المركزية في عهد محمد علي بمدينة .....  
 (الإسكندرية - الغربية - القاهرة - الجيزة)

(ب) ما النتائج التي تترتب على...؟

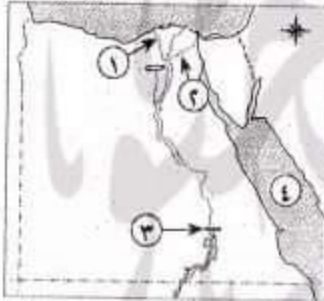
- ١- الحكم العثماني لمصر. **ساد الجمود والتأخر في جميع نواحي الحياة وانتشر الجهل والفقر والمرض**
  - ٢- الحملة الفرنسية على مصر من الناحية السياسية. **لفتت انظار العالم الغربي وخاصة انجلترا إلى أهمية موقع مصر**
- السؤال الرابع: (١) لمن تنسب الأعمال التاريخية التالية...؟
- ١- السلطان الذي قام بترحيل أمهر الصناعات والحرفيين إلى الآستانة. **سليم الأول**
  - ٢- القائد الذي تمكن من تحطيم الأسطول الفرنسي عند أبي قير البحرية. **نلسن**
  - ٣- أقام المشروعات العمرانية والاقتصادية ونهض بالتعليم وأقام إمبراطورية مصرية **الخديو اسماعيل**
  - ٤- يعد من أقدم ضباط الحملة الفرنسية وتولى بعد مقتل كليبر. **مينو**
  - ٥- أعطى امتياز حفر قناة السويس للمهندس الفرنسي فرديناند ديلبس عام ١٨٥٤م **محمد سعيد باشا**

(ب) رتب الأحداث التاريخية التالية من القديم إلى الحديث:

١ (اتفاقية العريش - محمد علي واليًا على مصر - حملة فريزر - حملة الشام)

## ١٥- محافظة الفيوم - إدارة يوسف الصديق التعليمية

### أولاً: الجغرافيا



السؤال الأول: (١) أمامك خريطة صماء لمصر اكتب مدلول الأرقام عليها:

- ١- فرع ..... **رشيدي**
- ٢- ترعة ..... **الإسماعيلية**
- ٣- السد ..... **العلي**
- ٤- البحر ..... **الأحمر**

(ب) أكمل العبارات الآتية بما يناسبها:

- ١- تظهر **العشوائيات** على أطراف المدن وهي التي بنيت بدون تخطيط.
- ٢- يظهر السطح في منخفض الفيوم على شكل **مدرجات واسعة**
- ٣- تعد صناعة العطور من الصناعات **الكيميائية**

(ج) ما المقصود بـ: الصناعة. **تحويل المادة الخام إلى سلع ومنتجات لسد احتياجات السكان**

(د) ماذا يحدث إذا...؟ - لم تكن هناك زراعة (يكتفى بنقطة واحدة).

السؤال الثاني: (١) اختر الإجابة الصحيحة مما بين الأقواس:

- ١- من العوامل الطبيعية لقيام الصناعة **الزراعة** .....
  - ٢- من الصناعات البسيطة .....
  - ٣- تعتمد الزراعة في الواحات على .....
- (السطح) - الأيدي العاملة - رأس المال - السوق
- (السجاد اليدوي) - حفظ الفاكهة - الأسمدة - الكمبيوتر
- (المياه الجوفية) - الأمطار - نهر النيل - البحر المتوسط



(ب) صنف العبارات الآتية فى الجدول التالى:

(السطح - الأيدى العاملة - رأس المال - المناخ)

عوامل بشرية لقيام الزراعة	عوامل طبيعية لقيام الزراعة	١
..... الأيدى العاملة .....	..... السطح .....	١
..... رأس المال .....	..... المناخ .....	٢

(ج) بم تفسر...؟

- ١- هجرة السكان من الريف إلى المدينة. للبحث عن فرصة عمل وانتشار البطالة
- ٢- اهتمام مصر بزيادة الصادرات. للحصول على العملات الأجنبية - وزيادة الدخل القومى
- ٣- تعد محافظة الفيوم محافظة جذب سياحى. لوجود عين السيليين وبحيرة قارون والسواقي وغيره

## ثالثا التاريخ

السؤال الثالث: (١) اكتب كلمة (صواب) أمام العبارة الصحيحة، وكلمة (خطأ) أمام العبارة غير الصحيحة:

- ١- اكتشف البريطانيون طريق رأس الرجاء الصالح. (X)
  - ٢- نجحت الحملة الفرنسية فى جعل مصر قاعدة للإمبراطورية الفرنسية فى الشرق. (X)
  - ٣- كان للزعامة الشعبية دور فى تولية محمد على حكم مصر. (✓)
- (ب) رتب الأحداث التاريخية من القديم إلى الحديث:
- (موقعة أبى قير البحرية - مذبح القلعة - موقعة مرج دابق - ثورة القاهرة الثانية)
- ٢ ٤ ١ ٣

(ج) ما النتائج المترتبة على...؟

- ١- موقعة أبى قير البحرية. انقطاع الصلة بين الجيش الفرنسى وفرنسا اعتماد الفرنسيين على موارد مصر اضعاف الروح المعنوية للفرنسيين
- ٢- ترحيل السلطان العثمانى لأمهرا الصناع والحرفيين إلى الأستانة. تدهور الحياة الفنية والصناعة فى مصر

السؤال الرابع: (١) صوب ما تحته خط فى العبارات الآتية:

- ١- أصبحت مصر ولاية عثمانية بعد موقعة إمبابية. الريدانية
- ٢- جاءت الحملة الفرنسية بقيادة فريزر على مصر. الإنجليزية
- ٣- قاد مينو الحملة الفرنسية بعد رحيل نابليون. كليبر

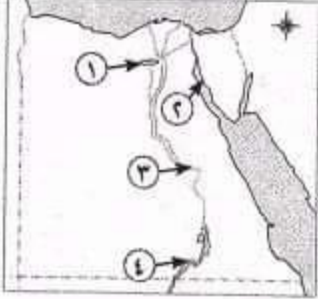
(ب) اكتب اسم الشخصية التى تتحدث عن نفسها:

- ١- كان لى دور كبير فى تولية محمد على حكم مصر، وكنت نقيب الأشراف. عمر مكرم
- ٢- كنت قائد المماليك فى موقعة الريدانية. طومان باى

(ج) ما رأيك فى: - الحكم العثمانى لمصر؟ فترة من أسوء الفترات التى عاشتها مصر من

تخلف وجهل وفقر وتدهور فى جميع المجالات الاقتصادية

## اولاً الجغرافيا



السؤال الأول: ( ١ ) أمامك خريطة صماء لمصر اكتب مدلول الأرقام عليها:

- ١ - منخفض ..... الفيوم
- ٢ - خليج ..... السويس
- ٣ - نهر ..... النيل
- ٤ - بحيرة ..... ناصر

(ب) اكتب المصطلح العلمى الدال على العبارات الآتية:

- ١- المناطق التى بُنيت بدون تخطيط وعادة ما تظهر على أطراف المدن. **العشوائيات**
- ٢- عدم معرفة القراءة والكتابة. **الأمية**
- ٣- تحويل المادة الخام إلى سلع ومنتجات لسد احتياجات السكان. **الصناعة**
- ٤- إزالة الطبقة السطحية من التربة مما يؤدي إلى تدهورها. **تجريف التربة**

السؤال الثانى: ( ١ ) اكتب كلمة (صواب) أمام العبارات الصحيحة، وكلمة (خطأ) أمام العبارات الخطأ:

- ١- من محاصيل الحبوب القمح والأرز والكتان. (X)
- ٢- تم تهجير سكان النوبة بعد بناء السد العالى. (✓)
- ٣- تتنوع الصناعات بتنوع المواد الخام. (✓)
- ٤- تعد صناعة الأسمدة والأدوية من الصناعات المعدنية. (X)
- ٥- يفضل نقل المصانع التى تضر بالبيئة خارج المناطق السكنية. (✓)

(ب) بم تفسر...؟ **يسبب اتساع مساحة مصر - وتنوع مظاهر السطح وتنوع الموارد الطبيعية**

- ١- تداخل البيئات المصرية.
- ٢- إنشاء الدولة وزارة البيئة.
- لأصدار القوانين والتشريعات لحماية البيئة من الاخطار

## ثانياً التاريخ

السؤال الثالث: ( ١ ) أكمل العبارات التالية بكلمة مناسبة:

- ١- قام السلطان ..... **سليم الأول** بترحيل أمهر الصناع والحرفيين إلى الآستانة.
- ٢- من الأسباب المعلنة للحملة الفرنسية على مصر تأديب ..... **المماليك**.
- ٣- أبحرت الحملة الفرنسية من ميناء ..... **طولون** فى مايو ١٧٩٨م.
- ٤- قاوم ..... **محمد كريم** حاكم الإسكندرية الحملة الفرنسية.

(ب) ما النتائج المترتبة على...؟

- ١- اكتشاف طريق رأس الرجاء الصالح عام ١٤٩٨م. **ضعف** وانهيار دولة المماليك اقتصاديا
- ٢- الحملة الفرنسية على مصر. **فشلت** الحملة الفرنسية فى تحقيق اهدافها الحقيقية



سؤال الرابع: (١) اختر الإجابة الصحيحة مما بين القوسين:

- ١- تولى المماليك حكم البلاد بعد انتهاء الدولة ..... (الفاطمية - الأيوبية - العباسية - الأموية)
- ٢- أنشأ محمد علي ترسانة لبناء السفن في ..... (بورسعيد - السويس - الإسكندرية - دمياط)
- ٣- استيلاء دولة على دولة أخرى قهراً يسمى ..... (احتلالاً - مستعمرة - حملة - حرية)

(ب) رتب الأحداث التاريخية التالية من القديم إلى الحديث:

- ١ موقعة الريدانية - مذبحة قلعة - تولية محمد علي حكم مصر
- ٢ معاهدة لندن - موقعة الريدانية - مذبحة قلعة - تولية محمد علي حكم مصر
- ٣ مذبحة قلعة - تولية محمد علي حكم مصر - معاهدة لندن - موقعة الريدانية
- ٤ معاهدة لندن - موقعة الريدانية - مذبحة قلعة - تولية محمد علي حكم مصر

## ١٧- محافظة المنيا - إدارة المنيا التعليمية

### أولاً الجغرافيا

السؤال الأول: (١) أمامك خريطة صماء لمصر اكتب مدلول الأرقام عليها:



- ١- القناطر ..... **الخيرية**
- ٢- منخفض ..... **الفيوم**
- ٣- شبه جزيرة ..... **سيناء**
- ٤- السد ..... **العالى**
- ٥- بحيرة ..... **ناصر**

(ب) اكتب ما تشير إليه كل عبارة من العبارات الآتية:

- ١- سهل يتكون على جانبى النهر نتيجة الرواسب الطينية. **السهل الفيضى**
- ٢- بناء هندسى يشيد على الأنهار لتجنب أخطار الفيضانات. **السد**
- ٣- إزالة الطبقة السطحية من التربة مما يؤدي إلى تدهورها. **تجريف التربة**

السؤال الثانى: (١) أكمل العبارات الآتية مما بين القوسين:

(الفيوم - النوبارية - الحرفية - سوداء - بيضاء - الدلتا - الواحات)

- ١- توجد الزراعة المروية بمياه النيل بمصر فى ..... **الدلتا**
- ٢- تتميز التربة الطينية بأنها خصبة و ..... **سوداء** اللون.
- ٣- تعتمد الصناعة ..... **الحرفية** على العمل اليدوى وتحتاج إلى رأس مال قليل.
- ٤- توجد ترعة ..... **النوبارية** غرب الدلتا.
- ٥- عين السيلين من المعالم السياحية فى محافظة ..... **الفيوم**

(ب) بهم تفسر...؟ بسبب الزحف العمرانى عليها

- ١- تناقص الأراضي الزراعية بمصر.
- ٢- أهمية البيئة الصناعية.

توفير فرص عمل للشباب - وزيادة الدخل القومى - والقضاء على البطالة

### ثانياً التاريخ

السؤال الثالث: (١) اكتب كلمة (صواب) أمام العبارة الصحيحة وكلمة (خطأ) أمام العبارة غير الصحيحة:

- ١- استطاع سليم الأول هزيمة المماليك فى مصر والشام. (✓)
- ٢- ازدهرت النواحي العلمية والثقافية فى ظل الحكم العثمانى. (✗)

مستر / عطازي شحتو



- ٣- جاءت الحملة الفرنسية على مصر بحجة تأديب العثمانيين.  
٤- اكتشف البريطانيون طريق رأس الرجاء الصالح.  
٥- دبر (محمد علي) في مارس ١٨١١م مكيده للقضاء على المماليك.  
(ب) تخير من ارقام القائمة (ب) بما يناسبها من القائمة (١):

(ب)	(١)
١- كليبر.	( ) كانت مدة حكمه تتراوح بين عام وثلاثة أعوام.
٢- طوسون باشا.	( ) أعطى امتياز حفر قناة السويس للمهندس ديليسبس.
٣- سعيد باشا.	( ) عندما عجز عن إخماد ثورة القاهرة الثانية دمر حى بولاق.
٤- الوالى.	

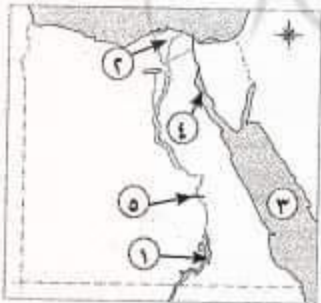
السؤال الرابع: (١) اختر الإجابة الصحيحة من بين الأقواس:

- ١- أصبحت مصر ولاية عثمانية عام ١٥١٧م بعد موقعة .....  
(ديو البحرية - جالديران - أبى قير البحرية - **الريدانية**)  
٢- قام الأسطول الإنجليزي بتحطيم الأسطول الفرنسى فى موقعة .....  
(ديو البحرية - مرج دابق - **أبى قير البحرية** - أبى قير البرية)  
٣- أرسلت بريطانيا حملة إلى مصر فى مارس ١٨٠٧م بقيادة .....  
(**فريزر** - كرومر - مينو - ديليسبس)  
٤- اهتم (محمد علي) بالتعليم فأرسل بعثات إلى الخارج وخاصة إلى دولة .....  
(إنجلترا - إيطاليا - إسبانيا - **فرنسا**)  
(ب) رتب الأحداث التاريخية التالية من القديم إلى الحديث: (موقعة **٢** شبراخيت - معاهدة **٣** لندن - موقعة **١** مرج دابق).

#### ١٨- محافظة أسيوط - إدارة أسيوط التعليمية

أهلاً < الجغرافيا

السؤال الأول: (١) أمامك خريطة صماء لمصر اكتب مدلول الأرقام عليها:



- ١- بحيرة ..... **ناصر**  
٢- منطقة ضمن البيئة الزراعية ..... **الدلتا**  
٣- البحر ..... **الأحمر**  
٤- خليج ..... **السويس**  
٥- قناة ..... **اسنا**

(ب) ما المقصود بالمفهومين التاليين...؟

- ١- الأمية. ٢- الاستنزاف.

عدم معرفة القراءة والكتابة الإفراط وسوء استخدام الموارد الطبيعية بشكل يؤدي لنفادها.





ب) السؤال الثاني: (١) اختر الإجابة الصحيحة من بين الأقواس:

- ١- تعتمد الزراعة في الواحات بمصر على مياه ..... (نهر النيل - الأمطار - الآبار والعيون - الثلوج)
- ٢- توجد عين السيلين وبحيرة قارون في محافظة ..... (الفيوم - المنوفية - القاهرة - القليوبية)
- ٣- من العوامل البشرية لقيام الصناعة ..... (الموقع الجغرافي - المناخ - رأس المال - المواد الخام)
- ٤- من خصائص سكان البيئة الصناعية ..... (ارتفاع نسبة البطالة - مشاركة المرأة في العمل - ارتفاع نسبة الأمية - انخفاض مستوى الدخل)
- ٥- من الصناعات الكيماوية صناعة ..... (الحديد والصلب - السيارات - الأسمدة - الثلجات)

(ب) اذكر سبباً واحداً لكل مما يأتي:

- ١- تندر النباتات الطبيعية في البيئة الزراعية. بسبب كثافة النشاط الزراعي
- ٢- التلوث البيئي في البيئة الصناعية في مصر. بسبب ادخنة المصانع ومخلفات المصانع

### الأسئلة المتعددة الاختيار

السؤال الثالث: (١) اكتب كلمة (صواب) أمام العبارة الصحيحة، وكلمة (خطأ) أمام العبارة غير الصحيحة:

- ١- أدى تنوع البيئات المصرية إلى تنوع الثروات الطبيعية. (✓)
- ٢- أنشأت الدولة وزارة البيئة لإصدار القوانين والتشريعات لحماية البيئة من الأخطار. (✓)
- ٣- اكتشف البريطانيون طريق رأس الرجاء الصالح عام ١٤٩٨م. (✗)
- ٤- أصبحت مصر ولاية عثمانية بعد معركة الريدانية ١٥١٧م. (✗)
- ٥- قام السلطان سليم الأول بترحيل أمهر الصناعات والحرفيين إلى الأستانة. (✓)
- ٦- تخلص (محمد علي) من الزعامة الشعبية في مذبحة القلعة. (✗)

(ب) اذكر نتيجة واحدة لكل مما يأتي:

- ١- الهجرة من الريف إلى المدن. زيادة سكان المدن - ظهر العشوائيات
- ٢- النتائج العلمية والثقافية للحملة الفرنسية على مصر. اكتشاف حجر رشيد - تأليف كتاب وصف

السؤال الرابع: (١) أكمل العبارات الآتية بما يناسبها:

- ١- أبحرت الحملة الفرنسية على مصر سنة ١٧٩٨م من ميناء ..... طولون
- ٢- أمر نابليون بإعدام ستة من مشايخ الأزهر باستثناء الشيخ ..... السادات
- ٣- عندما عجز كليبر عن إخماد ثورة القاهرة الثانية ١٨٠٠م أمر بتدمير حي ..... بولاق
- ٤- جاءت الحملة الإنجليزية على مصر في مارس ١٨٠٧م بقيادة ..... فريزر
- ٥- أنشأ (محمد علي) العديد من القصور مثل قصر ..... الجوهرة

(ب) اكتب المصطلح الذي تدل عليه كل عبارة من العبارات الآتية:

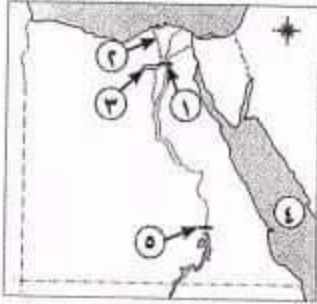
- ١- غلمان تم جلبهم بواسطة التجار، اشتراهم السلاطين والأمراء، وقد تولوا الحكم عقب انهيار الدولة الأيوبية. المماليك
- ٢- إقليم يحكمه أجنبي يتوطنه أو يكتفى باستغلاله اقتصادياً أو عسكرياً. مستعمرة

## ١٩ - محافظة قنا - إدارة نجع حمادى التعليمية

(مجاب عنه ص ٢٥٥)

### أولاً الجغرافيا

السؤال الأول: (١) أمامك خريطة صماء لمصر اكتب مدلول الأرقام عليها:



مستر / عطازى شحتو

- ١- القناطر..... **الخيرية**
- ٢- فرع..... **رشيد**
- ٣- منخفض..... **الفيوم**
- ٤- البحر..... **الأحمر**
- ٥- السد..... **العالى**

(ب) بهم تفسر...؟

- تُعد الفيوم محافظة جذب سياحى. لوجود **عين السيليين** و **السواقي** و **بحيرة قارون** و غيرها

السؤال الثانى: (١) أكمل الفراغات فى العبارات الآتية:

- ١- لجأ كثير من الشباب إلى الهجرة بسبب انتشار..... **البطالة**
- ٢- يقصد ب..... **الصناعة** تحويل المادة الخام إلى سلع ومنتجات.
- ٣- أدى التوسع العمرانى وتجريف التربة إلى وجود مشكلة **تناقص الأراضى الزراعية**
- ٤- تحتاج الصناعة..... **البسيطة** إلى عدد كبير من العمال.
- ٥- الزراعة..... **المروية** تعتمد على مياه نهر النيل وتوجد فى السهول الفيضية الخصبة.

(ب) ما النتائج المترتبة على...؟ - هجرة سكان الريف إلى البيئة الصناعية.

**زيادة السكان فى المدن - ظهور العشوائيات - زيادة الذكور فى المدن**

**تناقص العاملين فى الزراعة**

### ثانياً التاريخ

السؤال الثالث: (١) ضع كلمة (صواب) أمام العبارة الصحيحة وكلمة (خطأ) أمام العبارة غير الصحيحة:

- ١- فرضت الدولة العثمانية سيطرتها على مصر عام ١٥١٧م. (✓)
- ٢- أنشأ محمد على قصر الجوهرة بالقلعة. (✓)
- ٣- كان نظام الحكم العثماني لمصر عادلاً. (✗)
- ٤- ضمت الحملة الفرنسية على مصر مجموعة من الرسامين والعلماء والكتاب. (✓)

مستر / عطازى شحتو

(ب) ما المقصود بالمفاهيم التاريخية التالية...؟

- ١- مستعمرة.
  - ٢- الحماية العثمانية.
- إقليم يحكمه اجنبي أو يكتفى باستغلاله اقتصادياً أو عسكرياً
- السؤال الرابع: (١) لمن تنسب هذه الأعمال الآتية...؟

- ١- قام بتحطيم الأسطول الفرنسى عند أبى قير البحرية (أغسطس ١٧٩٨م). **نلسون**
- ٢- قائد الجيش المملوكى فى معركة الريدانية عام ١٥١٧م. **طومان باى**
- ٣- تزعم ثورة القاهرة الثانية (١٨٠٠م) فى حى بولاق. **عمر مكرم**



٤- اهتم بالتعليم في مصر اهتماماً متميزاً وأرسل بعثات التعليم لفرنسا. محمد على

٥- في عهده تم فتح مدينة القسطنطينية عاصمة الدولة البيزنطية في عام ١٤٥٣م. محمد الثاني - الفاتح

- قام بنفى عمر مكرم الى دمياط وعزل عبدالله الشرقاوى من منصبه  
(ب) كيف تعامل محمد على مع الزعامة الشعبية رغم ما بذله في توليته حكم مصر؟ (اذكر رأيك في ذلك)

## ٢٠- محافظة سوهاج - إدارة ساقطة التعليمية

### اولاً الجغرافيا

السؤال الأول: (١) أمامك خريطة صماء لمصر اكتب مدلول الأرقام عليها:

- ١- ترعة ..... الإبراهيمية ..... غرب الوادى.
- ٢- القناطر ..... الخيرية ..... على رأس الدلتا.
- ٣- البحر ..... الأحمر .....
- ٤- الصحراء ..... الشرقية .....

(ب) بم تفسر...؟

١- تعد محافظة الفيوم محافظة جذب سياحى. لوجود عين السيليين والسواقي وبحيرة قارون وغيرها

٢- إنشاء الدولة وزارة البيئة. لأصدار القوانين والتشريعات لحماية البيئة من الاخطار

(ج) ما المقصود بكل من المفاهيم الجغرافية التالية...؟

١- العشوائيات. ٢- الاستنزاف. الإفراط وسوء استخدام الموارد الطبيعية بشكل يؤدي لنفاذها

المناطق التي بنيت بدون تخطيط وعادة ما تظهر على أطراف المدن

السؤال الثانى: (١) اكتب كلمة (صواب) أمام العبارة الصحيحة وكلمة (خطأ) أمام العبارة غير الصحيحة:

- ١- تتميز الأراضي الزراعية بمنخفض الفيوم باستواء السطح. (X)
- ٢- يوجد تكامل بين البيئات المصرية. (✓)
- ٣- من محاصيل الحبوب القمح والأرز والكتان. (X)
- ٤- تحرص الدولة على إنشاء المناطق الصناعية لزيادة الصادرات المصرية. (✓)

(ب) ما النتائج المترتبة على...؟

١- الزحف العمرانى على الأرض الزراعية. ٢- إنشاء المزارع السمكية. زيادة الثروة السمكية

تناقص مساحة الأراضي الزراعية

(ج) إليك بعض العادات الإيجابية والعادات السلبية في البيئة الزراعية:

(احترام الكبير - الزواج المبكر - التعاون فيما بينهم - تفضيل الذكور على الإناث). صفها في الجدول الآتى:

العادات السلبية في البيئة الزراعية	العادات الإيجابية في البيئة الزراعية
١- الزواج المبكر	١- احترام الكبير
٢- تفضيل الذكور على الإناث	٢- التعاون فيما بينهم

تساق التاريخ

السؤال الثالث: (١) أكمل العبارات الآتية بالكلمات المناسبة فيما يأتي:

١- طبق محمد على نظام **الإحتكار** في الاقتصاد المصري.

٢- اكتشف **البرتغاليون** طريق رأس الرجاء الصالح عام ١٤٩٨م.

٣- لفتت الحملة الفرنسية أنظار العالم الغربي لموقع مصر الجغرافي خاصة **فرنسا**.

(ب) لمن تنسب الأعمال الآتية...؟

١- حاكم الإسكندرية الذي قاوم الحملة الفرنسية. **محمد كريم**

٢- نجح في إقامة إمبراطورية مصرية امتدت إلى مديرية خط الاستواء. **الخدوي اسماعيل**

٣- قاد الحملة الفرنسية على مصر ١٧٩٨م. **نابليون بونابرت**

(ج) ما النتائج المترتبة على: معركة أبي قير البحرية ١٧٩٨م؟ **انقطاع الصلة بين الجيش الفرنسي وفرنسا**

**اعتماد الفرنسيين على موارد مصر**

**اضعاف الروح المعنوية للفرنسيين**

السؤال الرابع: (١) اختر الإجابة الصحيحة من بين الأقواس:

١- أنشأ محمد على ترسانة لبناء السفن في .....

٢- أصبحت مصر ولاية عثمانية بعد معركة ..... عام ١٥١٧م. (مرج دابق - الريدانية - عين جالوت - حطين)

٣- تم فتح القسطنطينية عام ١٤٥٣م في عهد السلطان .....

(سليم الأول - محمد الثاني - عثمان بن أرطغرل - طومان باي)

(ب) صوب الكلمات التي تحته خط:

١- نفى محمد على نقيب الأشراف عمر مكرم إلى المنصورة. **دمياط**

٢- اجتمع زعماء الشعب والعلماء في دار الحكمة وقرروا عزل خورشيد باشا. **المحكمة**

(ج) اكتب ما تشير إليه العبارات الآتية:

١- إقليم يحكمه أجنبي يتوطنه أو يكتفى باستغلاله اقتصادياً. **المستعمرة**

٢- مكيدة دبرها (محمد علي) للقضاء على المماليك عام ١٨١١م. **مذبحة القلعة**

٢١- محافظة أسوان - إدارة كوم أمبو التعليمية

أولاً الجغرافيا

السؤال الأول: (١) أمامك خريطة صماء لمصر اكتب مدلول الأرقام عليها:

**المتوسط**

١- البحر .....

**الدلتا**

٢- منطقة تركيز السكان .....

**الأحمر**

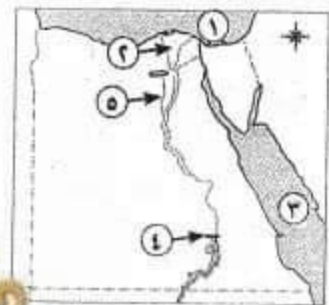
٣- البحر .....

**العالى**

٤- السد .....

**بحر يوسف**

٥- ترعة .....



مسئرا عطارى شحتو



- تعاني البيئة الصناعية من مشكلات التلوث البيئي. بسبب ادخنة المصانع ومخلفات المصانع

السؤال الثاني: (١) اكتب كلمة (صواب) أمام العبارة الصحيحة، وكلمة (خطأ) أمام العبارة غير الصحيحة:

- ١- يمكن أن نجد البيئة الزراعية داخل البيئة الصحراوية. (✓)
- ٢- أهم الحبوب الغذائية في مصر هي القمح والأرز والكتان. (✗)
- ٣- من الصناعات الحرفية في البيئة الزراعية صناعة الحديد والصلب. (✗)
- ٤- التدخين من العادات الإيجابية للبيئة الصناعية. (✗)

(ب) اكتب ما تدل عليه العبارات الآتية:

١- المكان الذي نعيش فيه ويضم مظاهر حضارية ومظاهر طبيعية. **البيئة**

٢- عدم معرفة القراءة والكتابة. **الأمية**

٣- يقصد بها الأفراد الذين هم في سن العمل ولا يعملون. **البطالة**

## تاريخ

السؤال الثالث: (١) اختر الإجابة الصحيحة مما بين القوسين:

- ١- هزمت الجيوش المملوكية بقيادة السلطان طومان باي في معركة ..... (الريدانية - مرج دابق - ديوان البحرية)
- ٢- أنشأ محمد علي ترسانة لبناء السفن في ..... (بورسعيد - الإسكندرية - أسوان)
- ٣- قاد الحملة الفرنسية على مصر ..... (مينو - نابليون بونابرت - كليبر)

(ب) ما النتائج المترتبة على...؟

١- معركة الريدانية. أصبحت مصر ولاية عثمانية وانتهت دولة المماليك

٢- الحملة الفرنسية من الناحية العلمية الثقافية. اكتشاف حجر رشيد - تأليف كتاب وصف مصر

انشاء المجمع العلمي

دراسة مشروع توصيل البحر الاحمر بالمتوسط

السؤال الرابع: (١) رتب الأحداث من الأقدم إلى الأحدث:

(مذبحة القلعة - ثورة القاهرة الأولى - فتح القسطنطينية - اتفاقية العريش)

3

1

2

4

(ب) لمن تنسب هذه الأعمال التاريخية...؟

١- السلطان الذي قام بترحيل أمهر الصناعات والحرفيين إلى الآستانة. **سليم الأول**

٢- يعد من أقدم ضباط الحملة الفرنسية وتولى بعد مقتل كليبر. **مينو**

٣- نائب للسلطان في الولاية ومقره القلعة. **الوالي**