

Escola

Aluno(a)..... Série:.....

1) A avó de Joana mora muito longe. Para ir visitá-la a menina gastou 36 horas de viagem. Quantos dias durou a viagem de Joana?

- a) 1 dia b) 1 dia e meio c) 3 dias d) 36 dias

2) Sabendo que 1 km(quilometro) correspondente a 1000 m (metros). Que a distância da escola de João à casa é de 2,5 km. A quantos metros corresponde essa distância?

- a) 25 m b) 250 m c) 2 500 m d) 25 000 m

3) Um programa de Forró, pelo rádio, começa às 5h55min e o programa seguinte começa às 6h30min. Quantos minutos dura o programa de Forró?

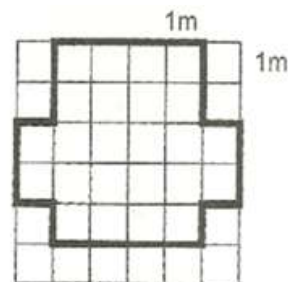
- a) 25 b) 35 c) 55 d) 85

4) Antônio entrou em uma livraria e comprou um caderno capa dura por R\$ 25,00 e uma caneta por R\$ 2,00. Quais as cédulas que Antônio poderá usar para pagar sua compra?

- a) 1 cédula de 10 reais, 3 cédulas de 5 reais e 1 cédula de 2 reais.
b) 1 cédula de 10 reais, 4 cédulas de 5 reais e 2 cédulas de 2 reais.
c) 1 cédula de 20 reais, 1 cédula de 5 reais e 2 cédulas de 2 reais.
d) 2 cédulas de 10 reais, 1 cédula de 5 reais e 3 cédulas de 2 reais.

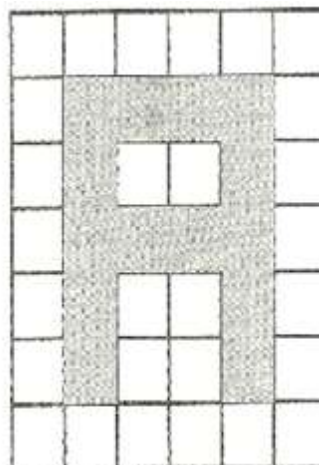
5) Uma pessoa faz caminhada em uma pista desenhada em um piso quadriculado, no qual o lado de cada quadrado mede 1 m. A figura ao lado representa essa pista. Quantos metros essa pessoa percorre ao completar duas voltas?

- a) 22 m b) 24 m c) 36 m d) 44 m

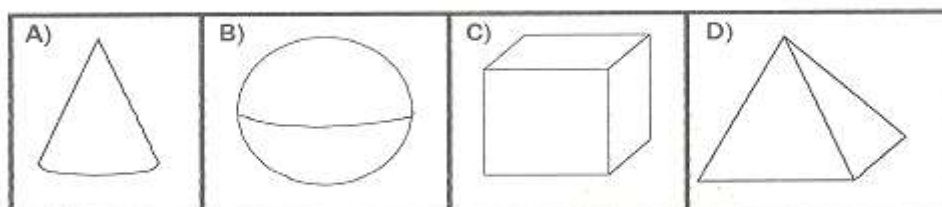


6) Em uma fachada, uma loja cobriu com azulejos a inicial do nome do dono. Cada quadrinho correspondente a um azulejo. Quantos azulejos foram usados para cobrir a letra "A" nesse desenho?

- a) 20 b) 16 c) 14 d) 13



7) João gosta de brincar de construtor. Ele pediu para sua mãe comprar blocos de madeira com superfícies arredondadas. A figura abaixo mostra os blocos que estão à venda.



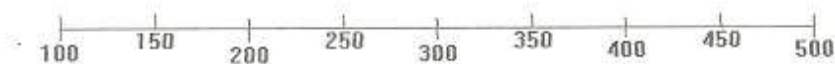
Quais dos blocos acima a mãe de João poderá comprar?

- a) A e B b) A e C c) B e D d) C e D

8) Um caderno tem 96 folhas e desejo dividi-lo, igualmente, em 4 partes. Quantas folhas terão cada parte?

- a) 14 b) 24 c) 25 d) 26

9) Marta quer colocar o número 475 na reta numerada, desenhada abaixo.



Esse número estará localizado entre os números.

- a) 250 e 300 b) 300 e 350 c) 350 e 400 d) 450 e 500

10) A professora Adriana apresentou a seguinte conta de multiplicar para os alunos:

$$\begin{array}{r} 386 \\ \times 43 \\ \hline 11 \square 8 \\ + 1 \square 4 4 \\ \hline 16 \square 9 8 \end{array}$$

O número correto a ser colocado no lugar de cada \square é:

a) 3

b) 4

c) 5

d) 6

11) Texto: Direitos do Homem

A Declaração Universal dos Direitos do Homem foi adotada em 1948 pela Assembléia Geral das Nações Unidas (com abstenção dos seis países do antigo bloco soviético, da Arábia Saudita e da África do Sul). Nela consta que todos os seres humanos nascem livres e iguais em direitos e dignidade, e que as liberdades e os direitos especificados na declaração devem ser garantidos a todos, sem discriminação de raça, cor, sexo, língua, opinião política e religião. Os direitos enumerados incluem os direitos civis (tais como liberdade de expressão, de consciência, de movimento, de se reunir e associar pacificamente) e os direitos econômicos e sociais (direito ao trabalho, a um padrão de vida adequado, à educação e à participação na vida cultural). O exercício dos direitos e liberdades individuais só é limitado pelo respeito aos direitos e liberdades de outrem.

(Direitos do Homem. Nova Enciclopédia Ilustrada Folha. São Paulo: Empresa Folha da Manhã, 1996)

De acordo com o texto, a Declaração Universal dos Direitos do Homem

(A) foi aceita por quase todos os países, com exceção de uns poucos, que não a adotaram.

(B) foi um primeiro passo na aceitação dos direitos humanos, embora não abrangesse todos eles.

(C) foi adotada pelos países do mundo todo, sem exceção, desde o século XIX.

(D) limita o exercício de alguns direitos, como o de manifestar a opinião política, em situação de risco para o país.

12) Texto: O disfarce dos Bichos

Você já tentou pegar um galhinho seco e ele virou bicho, abriu asas e voou? Se isso aconteceu é porque o graveto era um inseto conhecido como “bicho pau”. Ele é tão parecido com o galhinho, que pode ser confundido com o graveto.

Existem lagartas que se parecem com raminhos de plantas. E há grilos que imitam folhas.

Muitos animais ficam com a cor e a forma dos lugares em que estão. Eles fazem isso para se defender dos inimigos ou capturar outros bichos que servem de alimento. Esses truques são chamados de mimetismo, isto é, imitação. O cientista inglês Henry Walter Bates foi quem descobriu o mimetismo. Ele passou 11 anos na selva amazônica estudando os animais.

➤ Lagartas se parecem com:

- | | |
|----------------------|-------------------------|
| a) Florzinhas secas. | b) Folhinhas verdes. |
| c) Galinhos secos. | d) Raminhos de plantas. |

13) Texto: A costureira das fadas

Depois do jantar, o príncipe levou Narizinho à casa da melhor costureira do reino. Era uma aranha de Paris, que sabia fazer vestidos lindos, lindos até não poder mais! Ela mesma tecia a fazenda, ela mesma inventa as modas.

Dona Aranha – disse o príncipe – quero que faça para esta ilustre dama o vestido mais bonito do mundo. Vou dar uma grande festa em sua honra e quero vê – la deslumbrar a corte.

Disse e retirou-se. Dona Aranha tomou da fita métrica e, ajudada por seis aranhinhas muito espertas, principiou a tomar as medidas. Depois teceu depressa, depressa, uma fazenda cor-de-rosa com estrelinhas douradas, a coisa mais linda que se possa imaginar. Teceu também peças de fitas e peças de renda e de entremeio – até carretéis de linha de seda fabricou.

Monteiro Lobato, José Bento. Reinações de Narizinho. São Paulo: Brasiliense, 1973.

➤ O Príncipe quer dar um vestido para narizinho por quê?

- a) Ela deseja ter um vestido de baile
- b) O príncipe fará uma festa para narizinho.
- c) Ela deseja um vestido cor-de-rosa.
- d) O príncipe vai se casar com narizinho.

14) Texto: Continho

Era uma vez um menino triste, magro e barrigudinho. Na soalheira danada de meio-dia, ele estava sentado na poeira do caminho, imaginando bobagem, quando passou um vigário a cavalo.

- Você, aí, menino, para onde vai essa estrada?
- Ela não vai não: nós é que vamos nela.
- Engraçadinho duma figa! Como você se chama?
- Eu não me chamo, não, os outros é que me chamam de Zé.

MENDES CAMPOS, Paulo, Para gostar de ler- Crônicas. São Paulo: Ática, 1996, v.1p. 76.

- Há traço de humor no trecho:
- a) “Ela não vai não: nós é que vamos nela”
 - b) “Era uma vez um menino triste, magro”.
 - c) “ Ele estava sentado na poeira do caminho”
 - d) “Para onde vai essa estrada?”

15)Texto: Bula de remédio

Adultos: um comprimido duas vezes ao dia. Crianças: um comprimido uma vez ao dia.

LABORATÓRIO INFARMA S.A.

Responsável- Dr. R. Dias Fonseca

- No texto, a palavra POSOLOGIA indica:
- a) Os produtos que causam anemias.
 - b) As situações contra – indicadas no remédio.
 - c) As vitaminas que fazem falta ao homem.
 - d) As formas de como usar o remédio.